


# 365

DE ACTIVITĂȚI  
ȘI JOCURI



GIRASOL

001

A



B



002

Află ce număr  
reprezintă  
fiecare desen și  
scrie rezultatul  
corect în  
pătrățelul alb.

$$\begin{array}{cccc}
 \text{elephant} & + & \text{elephant} & + & \text{elephant} & + & \text{elephant} & = & 32 \\
 + & + & + & + & & & & & \\
 \text{elephant} & + & \text{peach} & + & \text{elephant} & + & \text{peach} & = & 24 \\
 + & + & + & + & & & & & \\
 \text{peach} & + & \text{orange} & + & \text{banana} & + & \text{elephant} & = & 15 \\
 + & + & + & + & & & & & \\
 \text{banana} & + & \text{banana} & + & \text{orange} & + & \text{peach} & = & 8 \\
 = & = & = & = & & & & & \\
 21 & 15 & \text{[ ]} & 24 & & & & & 
 \end{array}$$

Pune figurile geometrice în ordinea  
crescătoare a numărului de laturi.


1 .....

2 .....

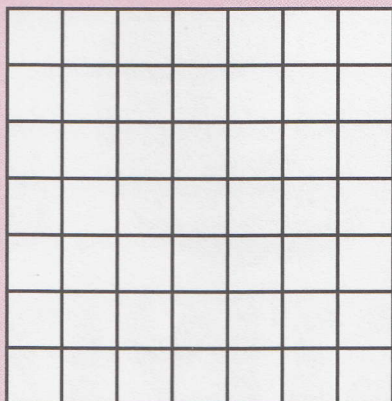
3 .....

4 .....

003 Desenează floarea folosind  
pătrățelele ajutătoare.



Colorează desenul!



004

	1	2	3	4	5	6	7
A	😊	😊	😊	😊	😊	😊	😊
B	😊	😊	😊	😊	😊	😊	😊
C	😊	😊	😊	😊	😊	😊	😊
D	😊	😊	😊	😊	😊	😊	😊
E	😊	😊	😊	😊	😊	😊	😊
F	😊	😊	😊	😊	😊	😊	😊

În acest tabel este ascuns  
un intrus, îl găsești?

005

Găsește în acest tabel șase  
nume de limbi străine.

P	A	O	L	E	N	T	E	R	E
G	E	R	M	A	N	Ă	S	S	N
A	T	A	O	R	U	S	Ă	P	G
E	A	L	R	O	G	N	A	A	L
F	R	A	N	C	E	Z	Ă	N	E
S	E	P	L	A	O	A	O	I	Z
A	N	L	A	B	O	B	L	O	Ă
N	A	L	A	T	A	C	A	L	E
G	P	O	L	O	N	E	Z	Ă	A

006



D-6



15



D-A




B+1

Câți ani are C dacă B are 15 ani?

Ai grijă, pot fi scrise și de sus în jos!


007



Scrive numele acestei  
pălării mexicane.

S \_ \_ \_ \_ \_

008



A

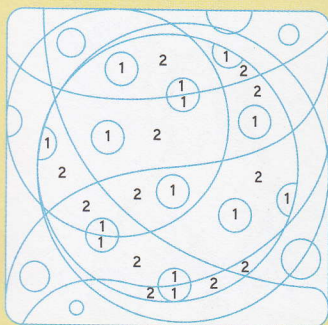
B

C

Scrive ordinea corectă a desenelor  
pentru a forma imaginea completă.

\_ \_ \_ \_

009



1

2

Colorează desenul ascuns  
conform codului culorilor.

011

Scrive vocalele lipsă din  
cuvintele de mai jos. Apoi,  
scrive cuvintele la plural.

L \_ \_ U

\_ \_ \_ \_



V \_ \_ CĂ

\_ \_ \_ \_

P \_ \_ Ș T E


\_ \_ \_ \_ \_

012




Câte cuburi sunt  
în acest desen?

010



Câte triunghiuri sunt  
în această imagine?

013



Trasează linia punctată  
dintr-o singură mișcare.




LIBRIS


Știi că rinocerii au  
coarnele compuse din  
fire groase de păr,  
dense și comprimate?  
Adică nu sunt osoase!

014

Îndepărtează două  
chibrituri ca să rămână  
numai patru pătrate.




015



Câte cuburi sunt  
în acest desen?

016




Care dintre firele  
baloanelor nu este liber?

017



Trasează drumul corect prin  
labirint, de la intrare până la ieșire!

018



Efectele optice ne pot înșela.  
Privește cu atenție imaginea de  
mai sus. Sunt pătrate perfecte?



019

În timpul romanilor apa se  
transporta de la locul de captare  
până în oraș cu ajutorul unor  
construcții imense (făcute din  
arce legate) care se numesc...

- .....
- A** Poduri      **C** Apeducte  
**B** Temnițe    **D** Fântâni

020

Află ce număr reprezintă  
fiecare desen și scrie  
rezultatul corect în  
pătrățelul alb.

$$\begin{array}{ccccccc} \text{P} & + & \text{P} & + & \text{P} & + & \text{B} & = & 10 \\ + & & + & & + & & + & & \\ \text{O} & + & \text{M} & + & \text{P} & + & \text{P} & = & 12 \\ + & & + & & + & & + & & \\ \text{O} & + & \text{P} & + & \text{P} & + & \text{M} & = & 12 \\ + & & + & & + & & + & & \\ \text{S} & + & \text{B} & + & \text{O} & + & \text{S} & = & 15 \\ = & & = & & = & & = & & \\ \square & & 11 & & 11 & & 14 & & \end{array}$$

021

Pisică  
Măr  
Pește

Pară  
Cățel  
Caisă

FRUCTE

ANIMALE DE  
COMPANIE

Scrie fiecare cuvânt în  
categoria corespunzătoare.

022




Unește perechile  
potrivite.

023

Pune următoarele litere  
în ordine ca să descoperi  
numele unui oraș.

N A E V I E Ț




025



Îndepărtează  
trei creioane ca  
să rămână numai  
trei pătrate.

024

Trasează  
drumul  
corect prin  
labirint, de  
la intrare  
până la  
ieșire!



026

Completează seria  
de mai jos cu figura  
corespunzătoare  
(A, B, C sau D).

